

Processo Seletivo Simplificado para provimento dos cargos do quadro de pessoal
da Secretaria Municipal de Saúde de Anápolis – GO

CIRURGIÃO DENTISTA - PERIODONTISTA

CADERNO DE QUESTÕES

22/10/2023

DISCIPLINA	QUESTÕES
Língua Portuguesa	01 a 15
Atualidades e História, Geografia e Conhecimentos Gerais de Goiás e de Anápolis	16 a 20
Noções de Informática	21 a 25
Saúde Pública	26 a 40
Conhecimentos Específicos do Cargo	41 a 60

SOMENTE ABRA ESTE CADERNO QUANDO AUTORIZADO

LEIA ATENTAMENTE AS INSTRUÇÕES

Atenção: Transcreva no espaço designado da sua FICHA DE IDENTIFICAÇÃO, com sua caligrafia usual, considerando as letras maiúsculas e minúsculas, a seguinte frase:

Na glória da alegria e da bondade.

1. Quando for autorizado abrir o caderno de questões, verifique se ele está completo ou se apresenta imperfeições gráficas que possam gerar dúvidas. Se isso ocorrer, solicite outro exemplar ao(a) fiscal de sala.
2. Este caderno é composto por questões de múltipla escolha. Cada questão apresenta quatro alternativas de respostas, das quais apenas uma é a correta.
3. O cartão-resposta é personalizado e não será substituído em caso de erro no preenchimento. Ao recebê-lo, confira se seus dados estão impressos corretamente. Se houver erro de impressão, notifique o(a) fiscal de sala.
4. Preencha, integralmente, um alvéolo por questão, utilizando caneta de tinta AZUL ou PRETA, fabricada em material transparente. A questão deixada em branco, com rasura ou com marcação dupla terá pontuação ZERO.

PROCESSO SELETIVO

Leia o Texto 1 para responder às questões de 01 a 03.

Texto 1**Belo Horizonte é a capital campeã em números de botecos por habitantes**

É oficial! Fazendo jus à fama, Belo Horizonte pode sim ser chamada de a “Capital dos Bares”. O título foi reforçado em um levantamento feito pela Associação de Bares e Restaurante (Abrasel), que mostrou que a proporção de bares por habitantes em BH é a maior entre todas as capitais – mais que o dobro de São Paulo, por exemplo.

O estudo comparou os dados de população do Censo com o número de estabelecimentos ativos na base da Receita Federal.

Nesta lista, BH desponta na liderança, com 178 bares a cada 100 mil habitantes. Em seguida está Florianópolis, com 150 bares na mesma proporção de moradores. Já o Rio de Janeiro ficou em 8º lugar, e, mais distante ainda, a cidade de São Paulo, em 14ª colocada.

Disponível em: <<https://g1.globo.com/mg/minas-gerais/noticia/2023/09/08/belo-horizonte-e-a-capital-campea-em-numeros-de-botecos-por-habitantes.ghtml>>. Acesso em: 08 set. 2023.

QUESTÃO 01

A notícia acima é um gênero textual em que a linguagem tem a função

- (A) emotiva.
- (B) apelativa.
- (C) referencial.
- (D) metalinguística.

QUESTÃO 02

No trecho “Fazendo jus à fama”, a crase ocorre através da fusão de

- (A) locução adverbial.
- (B) preposição e artigo.
- (C) locução prepositiva.
- (D) preposição e pronome demonstrativo.

QUESTÃO 03

No primeiro parágrafo, o uso de aspas na expressão “Capital dos Bares” tem a função de

- (A) destacar o título dado a cidade.
- (B) introduzir a fala de uma pessoa.
- (C) indicar a exclusão de um trecho.
- (D) esclarecer algo que foi explicado.

QUESTÃO 04

Leia o texto a seguir.

Tofu é a ricota oriental.
A ricota o chuchu dos queijos.
E o chuchu é o quarto
estado da água.

JAIME, Leo. *Clássicos da twitteratura brasileira*. São Paulo: Livraria da Vila, 2010.

No texto de Leo Jaime, a principal estratégia de coerência caracteriza-se pelo(a)

- (A) rima.
- (B) aliteração.
- (C) sentido denotativo.
- (D) progressão temática.

QUESTÃO 05

Leia o texto a seguir.

Madrigal

Meu amor é simples, Dora.
Como a água e o pão.

Como o céu refletido
Nas pupilas de cão.

ARRIGUCCI JR, Davi (Sel.) *Melhores poemas*: José Paulo Paes. São Paulo: Global, 2003.

No texto, as comparações utilizadas como recurso expressivo contribuem para

- (A) estabelecer uma relação de semelhança.
- (B) substituir uma palavra ou expressão por outra.
- (C) intensificar a expressividade a partir do exagero intencional.
- (D) atribuir características de seres animados a seres inanimados.

RASCUNHO

Leia o Texto 2 para responder às questões 06 e 07.

Texto 2

Temperatura mundial deve aumentar até 2,6°C, diz relatório da ONU

A temperatura da Terra pode aumentar em 2,6°C até o ano de 2100. A elevação catastrófica foi alertada pela Convenção-Quadro das Nações Unidas sobre a Mudança do Clima (UNFCCC), nesta sexta-feira (8), que divulgou o primeiro relatório do painel de cientistas que acompanha os efeitos de ações globais para conter o colapso climático do planeta.

Embora existam progressos na implementação de compromissos para melhorias para limitar o aquecimento, a comunidade global ainda não está no caminho certo para cumprir os objetivos de longo prazo do Acordo de Paris.

Disponível em: <<https://g1.globo.com/meio-ambiente/noticia/2023/09/08/temperatura-mundial-deve-aumentar-ate-26c-diz-relatorio-da-onu.ghtml>>. Acesso em: 08 set. 2023.

QUESTÃO 06

No texto, o domínio discursivo emprega a capacidade de utilização da linguagem de

- (A) expor.
- (B) narrar.
- (C) relatar.
- (D) argumentar.

QUESTÃO 07

Para estabelecer a sequência textual, a conjunção “Embora” expressa a relação de sentido

- (A) causal.
- (B) concessiva.
- (C) comparativa.
- (D) conformativa.

RASCUNHO

QUESTÃO 08

Observe a imagem a seguir.



Disponível em: @heinekenbr. Acesso em: 09 set. 2023.

No texto, o recurso utilizado que amplia o sentido da mensagem é

- (A) a ironia.
- (B) a citação.
- (C) a polissemia.
- (D) a ambiguidade.

QUESTÃO 09

Leia o texto a seguir.

A escalada dos aluguéis no Brasil

O preço de viver no Brasil, sobretudo nas metrópoles, é cada vez mais salgado. De janeiro a julho, o valor médio do aluguel de imóveis residenciais subiu o triplo da inflação, segundo levantamento FipeZap+. Goiânia foi a capital mais afetada: entre julho de 2022 e julho de 2023, o aluguel médio na cidade subiu 37%. Enquanto isso, o aluguel de espaços comerciais teve a maior alta no Brasil em dez anos. Num cenário como esse, em que o boleto de aluguel engole boa parte do salário, a casa própria é um sonho difícil de concretizar. Para comprar uma kitnet de 40m², o brasileiro precisa economizar, em média, 259 salários-mínimos.

Disponível em: <<https://piaui.folha.uol.com.br/escalada-alugueis-brasil/>> Acesso em: 09 set. 2023.

No texto, a variação linguística empregada é

- (A) histórica.
- (B) geográfica.
- (C) estilística.
- (D) sociocultural.

QUESTÃO 10

Leia o texto a seguir.

O caçador redimido**A história de um peão que ganhava a vida caçando onças-pintadas e, arrependido, trabalha hoje na preservação da espécie**

Aos 9 anos, fui convidado a participar da minha primeira caçada. Na noite anterior, nem consegui dormir direito, tamanha a ansiedade. Fiquei encarregado de conduzir um dos cachorros utilizados para farejar a onça, que foi morta no final. Eram meados dos anos 1980. Meu pai trabalhava como operador de máquinas em uma fazenda no Pantanal Sul, como é conhecida a porção desse bioma que fica no Mato Grosso do Sul. Cresci entre os peões da fazenda e foram eles que me ensinaram a seguir o rastro e a abater onça-pintada. Essa atividade dava status no meio onde eu vivia. Passei a infância sonhando em um dia me tornar um caçador.

Disponível em: <<https://piaui.folha.uol.com.br/o-cacador-redimido/>>. Acesso em: 09 set. 2023.

No trecho “foram eles que me ensinaram a seguir o rastro”, a colocação pronominal ocorre

- (A) antes do verbo.
- (B) depois do verbo.
- (C) no meio do verbo.
- (D) no início da oração.

Leia o Texto 3 para responder às questões 11 e 12.

Texto 3**Por que empresas brasileiras só cometem crimes ambientais?**

No Brasil, as pessoas jurídicas podem ser responsabilizadas penalmente somente por crimes ambientais. Por essa razão, as empresas não respondem por eventuais delitos como lavagem de dinheiro e corrupção, ainda que tenham sido utilizadas como instrumento para praticá-los.

Em diversos países de primeiro – e até terceiro – mundo, o leque de crimes que podem ser cometidos pelas empresas é muito mais extenso. O fato é que, a partir da década de 1990, os diplomas internacionais passaram a estabelecer a obrigatoriedade de a legislação dos integrantes prever sanções às pessoas jurídicas. Podem ser citadas, por exemplo, a Organização para a Cooperação e Desenvolvimento Econômico (OCDE, tão almejada pelo Brasil), Organização dos Estados Americanos (OEA) e, de modo geral, as Nações Unidas.

Por outro lado, há países que permitem a incriminação das pessoas jurídicas apenas em determinados crimes, havendo maior incidência dos delitos de corrupção e lavagem de dinheiro. São os casos de Espanha, Itália, Portugal, Reino Unido, Chile e Argentina.

Se aprovado, o número de crimes potencialmente praticados pelas empresas aumentará drasticamente. É provável que necessite, ainda, de uma Emenda Constitucional, diante da ausência de previsão de responsabilização de pessoas jurídicas pelos crimes contra a administração pública. Isso, porém, não será empecilho, tendo em vista que prevalece o entendimento de que não se trata de cláusula pétrea (aqueles trechos da Constituição Federal que não podem ser mudados).

Disponível em: <<https://www.jornalopcao.com.br/colunas-geral/artigo-de-opinioao/por-que-empresas-brasileiras-so-cometem-crimes-ambientais-527714/>>. Acesso em: 09 set. 2023. [Adaptado]

QUESTÃO 11

A funcionalidade do gênero textual artigo de opinião tem como característica

- (A) a narrativa curta.
- (B) o emprego da descrição.
- (C) o diálogo entre leitor e autor.
- (D) a intenção de persuadir o interlocutor.

QUESTÃO 12

No primeiro parágrafo do texto, a conjunção subordinativa adverbial “ainda que” expressa ideia de

- (A) conformidade.
- (B) concessão.
- (C) condição.
- (D) causa.

RASCUNHO

QUESTÃO 13

Leia o texto a seguir.

Desconstruindo Amélia

Pitty

Já é tarde, tudo está certo
Cada coisa posta em seu lugar
Filho dorme, ela arruma o uniforme
Tudo pronto pra quando despertar

O ensejo a fez tão prendada
Ela foi educada pra cuidar e servir
De costume, esquecia-se dela
Sempre a última a sair

Disfarça e segue em frente, todo dia, até cansar (uhu!)
E eis que de repente ela resolve então mudar
Vira a mesa, assume o jogo, faz questão de se cuidar
(uhu!)
Nem serva, nem objeto, já não quer ser o outro, hoje ela é
um também

A despeito de tanto mestrado
Ganha menos que o namorado e não entende o porquê
Tem talento de equilibrista
Ela é muita, se você quer saber

Hoje aos 30 é melhor que aos 18
Nem Balzac poderia prever
Depois do lar, do trabalho e dos filhos
Ainda vai pra *night* ferver

Disponível em: <<https://www.letras.mus.br/pitty/1524312/>>. Acesso em: 10 set. 2023.

O fator de coerência empregado na composição foi a

- (A) situacionalidade.
- (B) informatividade.
- (C) intertextualidade.
- (D) aceitabilidade.

Leia o Texto 4 para responder às questões 14 e 15.

Texto 4**Quero fazer plástica**

Thalita Rebouças

Do alto dos meus 32 anos, eu passava mais uma tarde numa livraria, abordando as pessoas para tentar vender meus livros, quando uma menina de 14 anos (de salto altíssimo, várias camadas de rímel e minissaia jeans) se aproximou:

— Você tem tantos livros e é tão novinha... Desculpa perguntar, mas quantos anos você tem?

— Trinta e dois — respondi, desconfiada. Isso lá é pergunta que se faça?

— Trinta e dois!? Sério? Caraca! — assustou-se sinceramente. Chegando mais perto, sussurrou ao meu ouvido: — Sem plástica ou com plástica?

A pergunta me chocou. Primeiro, porque me senti uma anciã. Segundo, por uma menina de 14 anos (14 anos!!!) achar que uma aparência jovem só pode ser obtida com plástica, mesmo que a dona dessa aparência tenha apenas 32 anos.

Tentei esconder o espanto e fazer uma cara normal.

— Sem plástica! Por quê? Você acha que eu estou precisando?

— Não! De jeito nenhum! É que é impressionante você ser desse jeito sem plástica. Não rolou nem um botox? Mesmo? — Não, claro que não!

— Tô chokitaaaa! — exclamou, boca aberta, mãos no rosto. — Já falei pra minha mãe que eu quero fazer plástica. Quando eu fizer 18 vou melhorar o nariz e botar peito. O meu é muito pequeno, os garotos não gostam.

— Arrã... — reagi, sem conseguir dizer mais nada.

— Também penso em fazer uma lipinha. Minha mãe já fez e ficou ótima.

Lipinha. A menina de 14 anos (14 anos!!!) chamava lipoaspiração, aquela cirurgia invasiva que tira gordura do corpo com uma cânula, de LIPINHA!!! Uma coisa quase fofinha!

“Meu Deus!”, berrei em pensamento.

Apesar da vaidade exacerbada e da confiança cega nos benefícios da plástica e do botox, ela era apenas uma menina. Menina que não via a hora de ser mulher. Confesso, fiquei incomodada.

Naquela época já diziam que a infância estava encurtada. Mas o encurtamento continua, inclemente. Já com 36 anos, meses atrás, presenciei por acaso uma festa de aniversário num salão de beleza. Sim, pirralhas hoje comemoram idade nova no salão. Mas a pirralha em questão tinha apenas oito anos!

Uma das convidadas reclamou com o maquiador: “Não dá pra passar corretivo? Odeio olheira!”.

Bateu uma tristeza, uma melancolia dolorida. Esse mundo louco e apressadinho em que vivemos não dá chance para que essas meninas entendam: ser criança é que é tudo de bom.

Disponível em: <<https://vejario.abril.com.br/coluna/thalita-reboucas/quero-fazer-plastica/>>. Acesso em: 10 set. 2023.

QUESTÃO 14

Na crônica lida, o predomínio do tipo textual empregado é

- (A) expositivo.
- (B) descritivo.
- (C) narrativo.
- (D) injuntivo.

QUESTÃO 15

O texto revela que a pergunta inicial causou

- (A) intimidade.
- (B) normalidade.
- (C) arrependimento.
- (D) constrangimento.

QUESTÃO 16

Além de Goiás e do Distrito Federal, faz parte da RIDE (Rede Integrada de Desenvolvimento do Distrito Federal e Entorno) o estado de

- (A) Tocantins.
- (B) Mato Grosso.
- (C) Minas Gerais.
- (D) Mato Grosso do Sul.

QUESTÃO 17

Leia o texto a seguir.

Apenas Goiânia e Anápolis, em 1975, concentraram 20% das unidades industriais do território goiano. (...) A indústria goiana, durante o século XX, segue um contínuo movimento de concentração, dispersão e especialização.

ARRAIS, Cristiano; OLIVEIRA, Eliézer; ARRAIS, Tadeu. *O século XX em Goiás: o advento da modernização*. Goiânia: Cãnone editorial, 2016, p. 48.

O processo de industrialização do estado de Goiás teve como consequência

- (A) o aumento dos desequilíbrios regionais.
- (B) o enfraquecimento da agricultura.
- (C) a preservação do meio ambiente.
- (D) a valorização do artesanato.

QUESTÃO 18

Leia o texto a seguir.

A estrada de ferro Goiás, implantada como resultado das mudanças decorrentes da expansão das fronteiras econômicas rumo ao Centro-Oeste, tornou-se o principal agente transformador das antigas estruturas goianas; a modernização, estimulada pela via férrea, atingiu todos os níveis de organização da sociedade regional.

BORGES, Barsanufo Gomides. *O despertar dos dormentes*. Dissertação de mestrado em História. Goiânia, Universidade Federal de Goiás, 1982, p.3.

O avanço da estrada de ferro no interior do território goiano teve como impacto ambiental

- (A) a melhoria da qualidade da água potável.
- (B) a criação de unidades de conservação.
- (C) a proteção da fauna e flora local.
- (D) a retirada da cobertura vegetal.

QUESTÃO 19

Leia o texto a seguir.

Depois de mais de 30 anos, a Ferrovia Norte-Sul vai se tornar realidade e permitir a aceleração do desenvolvimento da região Centro-Oeste, fundamental para a agropecuária. Com a inauguração do Terminal da Rumo de Rio Verde (GO), a ferrovia completa 2.257 quilômetros e atravessa quatro regiões.

Disponível em: <<https://www.gov.br/planalto/pt-br/acompanhe-o-planalto/noticias/2023/06/presidente-inaugura-ferrovia-norte-sul-que-impulsiona-desenvolvimento-do-interior>>. Acesso em: 08 set. 2023. [Adaptado]

Uma das principais vantagens trazidas pela Ferrovia Norte-Sul aos estados do Centro-Oeste é

- (A) diminuir a burocracia do transporte.
- (B) oferecer grande flexibilidade das rotas.
- (C) facilitar a chegada dos produtos até o litoral.
- (D) possibilitar a entrega da carga direto ao consumidor final.

QUESTÃO 20

Leia o texto a seguir.

O Antropoceno refere-se a uma nova época geológica moldada pela humanidade e que está em andamento. O impacto dessas ações é tal que existe uma corrente de cientistas os quais defendem que os humanos estão mudando a Terra e seus processos em uma escala muito maior do que todas as outras forças naturais combinadas.

Disponível em: <<https://www.nationalgeographicbrasil.com/historia/2023/01/o-que-e-o-antropoceno-e-por-que-esta-teoria-cientifica-responsabiliza-a-humanidade>>. Acesso em: 07 set. 2023. [Adaptado]

Uma das consequências do antropoceno é

- (A) o aquecimento global.
- (B) o aumento da biodiversidade.
- (C) a preservação de espécies ameaçadas.
- (D) a diminuição dos problemas de saúde pública.

RASCUNHO

QUESTÃO 21

No navegador Google Chrome, existem combinações de teclas conhecidas como atalhos que facilitam e agilizam a operabilidade das suas diferentes funções. Para acessar “Nova janela anônima”, usa-se:

- (A) SHIFT + B
- (B) CTRL + SHIFT + N
- (C) CTRL + N
- (D) CTRL + T

QUESTÃO 22

Existem diferentes tipos de aplicações utilizadas para manipulação de arquivos, sendo que as mais comuns são as consideradas “*software* livre” e “*software* proprietário”. No caso de *software* livre, o “LibreOffice Calc” é uma ferramenta de manuseio do seguinte tipo:

- (A) planilhas eletrônicas.
- (B) documentos de texto.
- (C) bancos de dados.
- (D) apresentação de slides.

QUESTÃO 23

Na criação de correios eletrônicos é solicitada a formação de uma senha para cada usuário. Nessa senha, recomenda-se a combinação de algumas características para que ela seja considerada segura. Qual representa uma boa prática para a senha ser considerada segura?

- (A) Utilizar o nome e o sobrenome.
- (B) Utilizar o nome e a data de nascimento.
- (C) Utilizar pelo menos 6 caracteres alfanuméricos (mistura de números, caracteres especiais e letras).
- (D) Utilizar sempre a mesma senha de todos os e-mails que utiliza é a melhor forma de lembrar da senha.

RASCUNHO**QUESTÃO 24**

Aplicativos de leitura como o Microsoft Office Word oferecem opções diferenciadas de exibição de documentos. Caso se deseje realizar uma leitura em que possa ser exibida mais de uma página por vez e sendo ocultadas a maioria das barras de ferramenta, qual opção deve ser utilizada dentro da barra de ferramentas “Exibir” para acessar este tipo específico?

- (A) Layout da Web.
- (B) Layout de Impressão.
- (C) Estrutura de Tópicos.
- (D) Modo de Leitura.

QUESTÃO 25

No Windows, a extensão dos arquivos permite que o sistema trate cada um deles de forma diferente. As três extensões de arquivos de imagem mais utilizadas são:

- (A) CSV, GIF e JPG.
- (B) GIF, JPG e PNG.
- (C) TXT, JPG e GIF.
- (D) DOCX, PNG e JPG.

RASCUNHO

QUESTÃO 26

A trajetória percorrida até a criação e regulamentação do SUS sofreu influência da situação política do país durante décadas. Com o regime político-militar de 1964, houve redução do aporte financeiro destinado à saúde pública do Brasil, ocasionando prejuízos à saúde da população, tais como o aumento de enfermidades infectocontagiosas. Nesse contexto, com a atribuição de executar ações de erradicação e controle de endemias, o governo brasileiro criou, em

- (A) 1968, o Plano Nacional de Saúde.
- (B) 1970, a Superintendência de Campanhas de Saúde Pública.
- (C) 1976, o Programa de Interiorização das Ações de Saúde e Saneamento.
- (D) 1977, o Instituto Nacional de Assistência Médica da Previdência Social.

QUESTÃO 27

Leia o caso a seguir.

M. C. F., 39 anos, casada, desempregada e mãe de três filhos menores, é atendida na unidade de saúde por apresentar tonteira, náuseas e estar com 10 dias de atraso menstrual. Durante o atendimento, M. C. F. estava agitada, nervosa e preocupada, pois pensava que poderia estar grávida. No exame físico, observou-se a presença de vários hematomas pelo corpo e edema no joelho esquerdo. Ao ser questionada sobre a origem das lesões, a paciente relatou que regularmente sofria agressões físicas por parte do marido, pois estavam passando por dificuldades financeiras e essa situação o deixava aborrecido e violento. Diante desse quadro, o profissional de saúde, observando que a paciente apresentava outras queixas, além do quadro clínico relatado, encaminhou-a para atendimento nos serviços de pré-natal, ortopedia, psicologia e serviço social.

No caso acima, quais os princípios do Sistema Único de Saúde (SUS) estão presentes na conduta tomada pelo profissional de saúde?

- (A) Autonomia e solidariedade.
- (B) Equidade e inclusão social.
- (C) Universalidade e integralidade.
- (D) Humanização e inclusão social.

QUESTÃO 28

Leia o caso a seguir.

J. P. L. foi atendido em uma unidade de saúde pública do município de Anápolis e, diante do quadro clínico apresentado, o profissional de saúde solicitou exames de sangue e uma tomografia computadorizada do abdome.

No caso acima, para agendar os exames solicitados, J. P. L. deve

- (A) marcar os exames em uma instituição de saúde da rede conveniada.
- (B) solicitar o agendamento via central telefônica disponível para essa finalidade.
- (C) verificar a disponibilidade de vaga em uma instituição de saúde da rede pública.
- (D) seguir o fluxo de agendamentos estabelecido pelo complexo regulador do município.

QUESTÃO 29

A infraestrutura de uma Unidade Básica de Saúde (UBS) deve estar adequada ao quantitativo de população adscrita e suas especificidades, bem como aos processos de trabalho das equipes e à atenção à saúde dos usuários. Nesse contexto, o número de equipes de saúde da família (ESF) por UBS e a população adscrita de cada ESF recomendados na Política Nacional de Atenção Básica (PNAB) é de, respectivamente

- (A) 3 ESF e de 1.000 a 1.500 pessoas.
- (B) 4 ESF e de 2.000 a 3.500 pessoas.
- (C) 5 ESF e de 1.000 a 1.500 pessoas.
- (D) 6 ESF e de 2.000 a 3.500 pessoas.

QUESTÃO 30

As Redes de Atenção à Saúde são sistematizadas para responder as condições específicas de saúde, por meio de um ciclo completo de atendimentos implicando na continuidade e na integralidade da assistência nos diferentes níveis de atenção. Essas redes devem ter foco na população e visar, prioritariamente,

- (A) à promoção da saúde.
- (B) à reabilitação da saúde.
- (C) à prevenção de doenças.
- (D) ao diagnóstico precoce das doenças.

QUESTÃO 31

A gestão estratégica e participativa constitui-se em um conjunto de atividades voltadas ao aprimoramento da gestão do Sistema Único de Saúde (SUS) por meio de ações que incluem, dentre outras, o apoio ao controle social, à educação popular, à mobilização social e à gestão da ética nos serviços públicos de saúde. Para operacionalizar essas atividades, a Política Nacional de Gestão Estratégica e Participativa no SUS possui componentes tais como a auditoria no SUS, que é entendida como:

- (A) processo sistemático e contínuo de acompanhamento dos indicadores de saúde e da execução das políticas, ações e serviços nesta área visando à obtenção de informações em tempo oportuno para subsidiar a tomada de decisão, bem como a identificação, solução e redução de problemas e a correção de rumos.
- (B) conjunto de técnicas que visa a avaliar a gestão pública, de forma preventiva e operacional, sob os aspectos da aplicação dos recursos, dos processos, das atividades, do desempenho e dos resultados mediante a confrontação entre uma situação encontrada e um determinado critério técnico, operacional ou legal.
- (C) conjunto de canais democráticos de comunicação, destinados a receber manifestações dos cidadãos, incluindo reclamações, denúncias, sugestões, elogios, solicitação de informações, efetuando o encaminhamento, a orientação, o acompanhamento da demanda e o retorno ao usuário.
- (D) processo desempenhado por empresa ou profissional especializado na gestão em saúde destinado a desenvolver o diagnóstico situacional da rede de atenção e propor soluções apropriadas à demanda específica do sistema mediante análise dos seus objetivos, recursos e contexto.

QUESTÃO 32

O processo de efetivação da Política Nacional de Promoção da Saúde (PNPS) possui como valores fundantes o respeito às diversidades, à ética, à humanização, à justiça social,

- (A) à solidariedade, à felicidade, à corresponsabilidade e à inclusão social.
- (B) à felicidade, à sustentabilidade, à inclusão social e ao empoderamento.
- (C) à participação social, à autonomia, ao empoderamento e à sustentabilidade.
- (D) à autonomia, à corresponsabilidade, à participação social e à solidariedade.

QUESTÃO 33

Leia o caso a seguir.

Há um mês, H. C. F., professor, 54 anos, solteiro, vem apresentando palpitações cardíacas, dificuldade para respirar quando executa atividades que demandam esforço moderado e leve edema nos tornozelos. Preocupado com a possível agravamento do seu estado de saúde, H. C. F. decide procurar atendimento na rede de atenção do Sistema Único de Saúde (SUS).

Para receber a assistência necessária e se inserir no SUS preferencialmente, H. C. F. deve buscar atendimento em uma

- (A) instituição de saúde especializada em cardiologia.
- (B) instituição de saúde da rede conveniada.
- (C) unidade de urgência e emergência.
- (D) unidade de saúde da família.

QUESTÃO 34

Em estudos de validação de testes diagnósticos, a maioria dos indicadores constituem proporções. Nesse sentido, a sensibilidade de um teste diagnóstico significa a probabilidade de

- (A) o resultado do teste ser negativo, quando o indivíduo não apresenta a doença.
- (B) o indivíduo não estar doente quando o resultado do teste for negativo.
- (C) o resultado do teste ser positivo, quando o indivíduo apresenta a doença.
- (D) o indivíduo estar doente quando o resultado do teste for positivo.

QUESTÃO 35

As estatísticas de morbidade são utilizadas para avaliação do nível de saúde e para o aconselhamento de ações de caráter abrangente que visem melhorar o estado sanitário da comunidade. Para aproximar a correção das decisões ao apoiar ações específicas necessárias ao controle de determinada doença, consultam-se os índices de morbidade. Esses índices são discriminados em coeficientes de

- (A) letalidade e de mortalidade.
- (B) prevalência e de mortalidade.
- (C) letalidade e de incidência.
- (D) incidência e de prevalência.

QUESTÃO 36

A Política Nacional de Humanização (PNH) busca qualificar o modo de atenção e de gestão da rede do Sistema Único de Saúde incluindo trabalhadores, usuários e gestores. As diretrizes da PNH são orientações gerais que expressam o método da inclusão desses atores na produção da saúde e, na prática, essas diretrizes são operacionalizadas por meio de dispositivos como a ambiência, que significa

- (A) acolher todas as queixas e os relatos dos usuários, mesmo quando possam parecer não interessar diretamente para o diagnóstico e/ou para o tratamento deles.
- (B) criar espaços saudáveis, acolhedores e confortáveis, que respeitem a privacidade, propiciem mudanças no processo de trabalho e sejam lugares de encontro entre as pessoas.
- (C) atender a todos que procuram os serviços de saúde, ouvindo seus pedidos e assumindo uma postura capaz de acolher, escutar e dar respostas adequadas aos usuários.
- (D) garantir a presença da rede sociofamiliar dos usuários internados, de forma a assegurar o elo entre o usuário do hospital, sua rede social e os demais serviços da rede de saúde.

QUESTÃO 37

Dentre as modalidades de estudos epidemiológicos, tem-se os estudos transversais, que se constituem em um desenho de pesquisa que possibilita identificar a prevalência de um fenômeno de interesse. Os estudos transversais possuem baixo poder para estabelecer relações causais ou mesmo a história natural de um fenômeno e não podem ser utilizados quando o evento de interesse for

- (A) abrangente.
- (B) limitado.
- (C) comum.
- (D) raro.

QUESTÃO 38

As curvas epidêmicas mostram o comportamento gráfico de uma epidemia e se apresentam em três fases. A passagem de um processo saúde-doença de uma situação endêmica pré-existente para uma situação epidêmica configura a fase de

- (A) incremento inicial de casos.
- (B) progressão epidêmica.
- (C) regressão epidêmica.
- (D) incidência máxima.

QUESTÃO 39

No âmbito do Sistema de Planejamento do SUS, as ações de saúde são planejadas nas três esferas de governo, ou seja, no âmbito federal, estadual e municipal. Nesse contexto, o financiamento das ações da atenção básica deve ser tripartite e com detalhamento apresentado

- (A) pela Conferência de Saúde, que é o instrumento utilizado para avaliar a situação da saúde e propor as diretrizes para a formulação das políticas públicas direcionadas aos usuários do Sistema Único de Saúde.
- (B) pelo Plano Municipal de Saúde, que é o instrumento que, a partir de uma análise situacional, apresenta as intenções e os resultados a serem buscados no período de quatro anos, expressos em objetivos, diretrizes e metas.
- (C) pela Programação Anual de Saúde, que é o instrumento em que as ações expressas no Plano de Saúde são detalhadas a partir dos objetivos, das diretrizes e das metas estabelecidas.
- (D) pelo Relatório Anual de Gestão, que é o instrumento utilizado para apresentar os resultados alcançados e apurados com base no conjunto de ações e metas que foi definido.

QUESTÃO 40

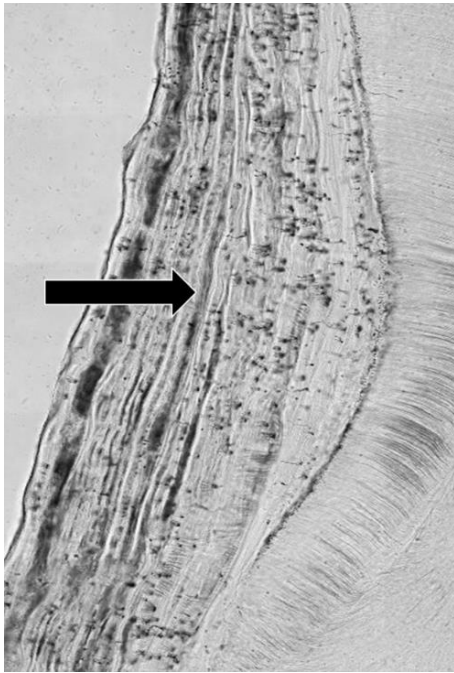
O Conselho Nacional de Secretários de Saúde (Conass) e o Conselho Nacional de Secretarias Municipais de Saúde (Conasems) são reconhecidos como entidades representativas dos entes estaduais e municipais responsáveis pela gestão do Sistema Único de Saúde (SUS). Para auxiliar no custeio de suas despesas institucionais, essas entidades receberão recursos do orçamento geral da União por meio

- (A) do Fundo Nacional de Saúde.
- (B) do Conselho Nacional de Saúde.
- (C) das Comissões Intergestores Bipartite.
- (D) das Comissões Intergestores Tripartite.

RASCUNHO

QUESTÃO 41

Observe a imagem a seguir.

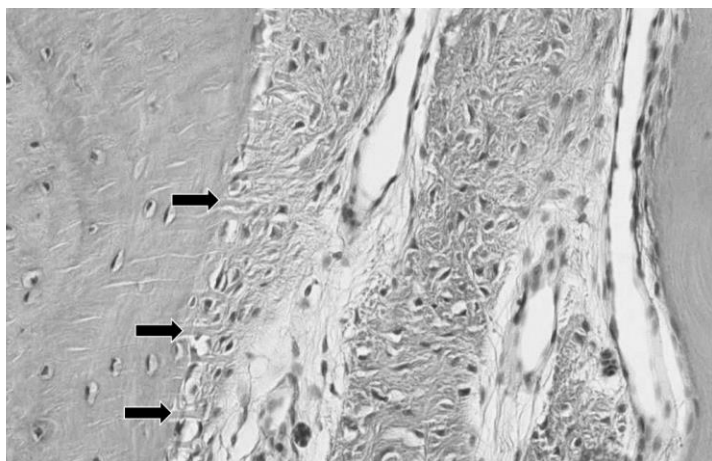


O cimento radicular é um tecido mineralizado avascular e faz parte do periodonto de sustentação. Sobre o cimento apontado pela seta na fotomicroscopia acima, a sua classificação, localização na estrutura radicular, nível de mineralização e cronologia de formação são, respectivamente:

- (A) acelular; terço apical da raiz; mais mineralizado; formado antes do irrompimento dentário.
- (B) celular; terço apical da raiz; menos mineralizado; formado após o irrompimento dentário.
- (C) acelular; terço médio da raiz; menos mineralizado; formado após o irrompimento dentário.
- (D) celular; terço médio da raiz; mais mineralizado; formado antes do irrompimento dentário.

QUESTÃO 42

Observe a imagem a seguir.

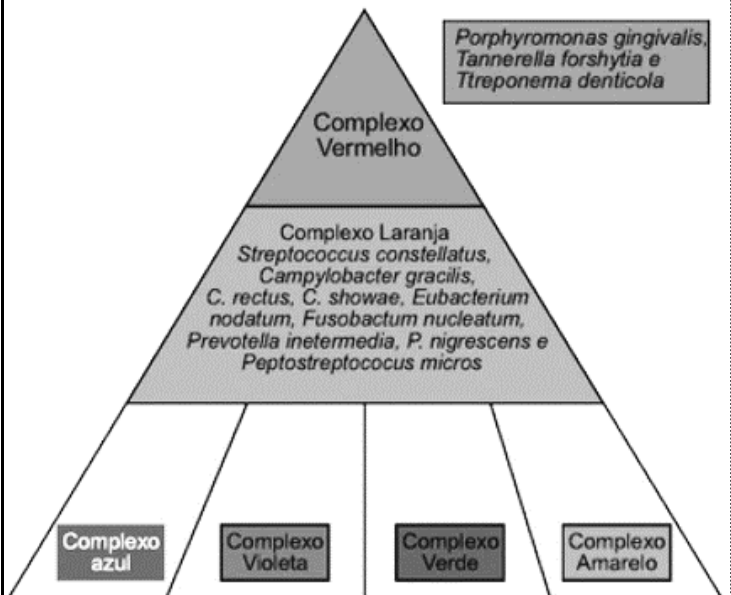


As fibras de Sharpey são estruturas sintetizadas por fibroblastos que apresentam a sua porção terminal calcificada, conforme apontado pelas setas nesta fotomicroscopia. De acordo com essas informações e a fotomicroscopia apresentada, as fibras de Sharpey podem ser classificadas como fibras

- (A) do tecido gengival pertencentes ao periodonto de proteção, constituídas principalmente por colágeno tipo III e originadas da papila dentária.
- (B) do tecido gengival pertencentes ao periodonto de sustentação, constituídas principalmente por colágeno tipo I e originadas do fôliculo dentário.
- (C) do ligamento periodontal pertencentes ao periodonto de proteção, constituídas principalmente por colágeno tipo III e originadas da papila dentária.
- (D) do ligamento periodontal pertencentes ao periodonto de sustentação, constituídas principalmente por colágeno tipo I e originadas do fôliculo dentário.

QUESTÃO 43

O diagrama a seguir representa as associações de espécies bacterianas que participam na formação do biofilme, de acordo com Socransky e Haffajee (2002).



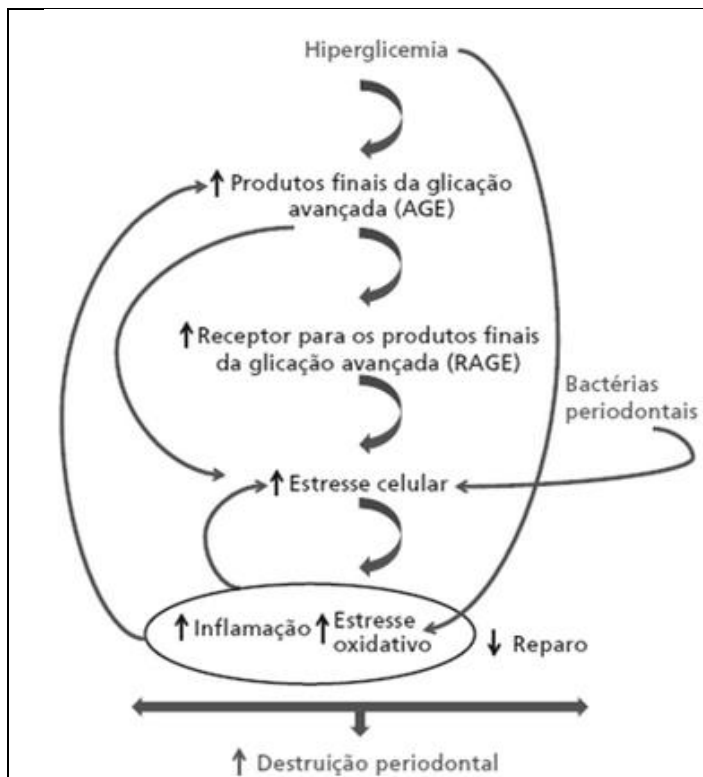
JORGE, A. *Microbiologia e Imunologia Oral*. Capítulo 30: Microbiota Periodontal e Aspectos Imunológicos do Periodonto, p. 282, 2012.

As bactérias periodontopatogênicas do complexo vermelho são

- (A) gram-negativas e anaeróbias estritas, colonizam a região subgengival e participam da fase crônica da periodontite.
- (B) gram-positivas e anaeróbias facultativas, colonizam a região subgengival e participam da fase crônica da periodontite.
- (C) gram-negativas e anaeróbias facultativas, colonizam a região supragengival e participam da fase aguda da periodontite.
- (D) gram-positivas e anaeróbias estritas, colonizam a região supragengival e participam da fase aguda da periodontite.

QUESTÃO 44

O diabetes mellitus é considerado como um fator modificador na patogênese da doença periodontal. O esquema a seguir ilustra a participação dessa doença endócrina na periodontite.



*RAGE: receptor for advanced glycation end products/ receptor para produtos finais de glicação avançada;

*AGE: advanced glycation end products/ produtos finais de glicação avançada.

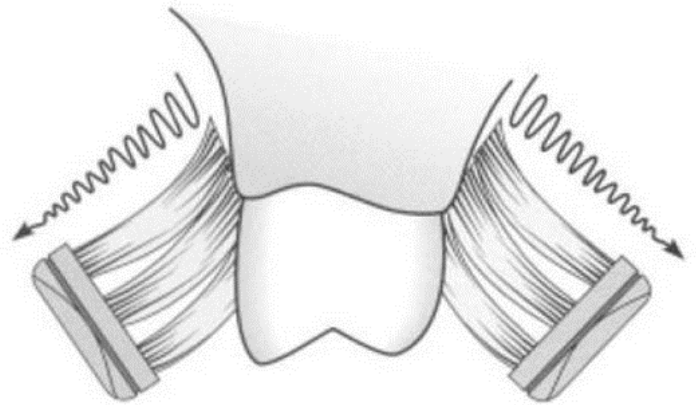
LANG, Niklaus, P. e Jan Lindhe. *Tratado de Periodontia Clínica e Implantologia Oral*, 6ª edição. Capítulo 14: Fatores Modificadores. Página 248. Disponível em: Minha Biblioteca, Grupo GEN, 2018.

O quadro de hiperglicemia no diabetes mellitus, como fator modificador, pode

- (A) induzir de forma isolada o estresse celular e o processo inflamatório da periodontite.
- (B) alterar o genótipo do paciente e a progressão da periodontite.
- (C) induzir a resistência bacteriana e a severidade clínica da periodontite.
- (D) alterar a suscetibilidade do hospedeiro e o fenótipo clínico da periodontite.

QUESTÃO 45

Observe a figura a seguir.



Disponível em: <<https://www.practo.com/healthfeed/brushing-techniques-all-you-need-to-know-27627/post>>. Acesso em: 27 set. 2023.

A migração apical da gengiva associada a traumas oclusais ou processos inflamatórios locais é denominada retração gengival. Essa condição pode apresentar progressão clínica, se associada a técnicas de escovação incorreta. A partir da figura, qual é a técnica de escovação indicada para os casos de retração gengival ilustrada?

- (A) Técnica de Charters.
- (B) Técnica de Leonard.
- (C) Técnica de Fones.
- (D) Técnica de Stillman modificada.

QUESTÃO 46

Os instrumentos periodontais utilizados para remoção do cálculo dentário supragengival e subgengival são as curetas Gracey e universais. Embora sejam utilizadas para funções semelhantes, essas curetas apresentam diferenças estruturais. Qual característica é específica da cureta Gracey?

- (A) Apresenta duas bordas de corte.
- (B) A lâmina apenas curva-se para cima e de lado.
- (C) Concebida para todas as superfícies dentárias.
- (D) Parte ativa perpendicular ao pescoço.

QUESTÃO 47

Observe a imagem a seguir.



As sondas periodontais são instrumentos de exploração e permitem conhecer o grau de avanço dos danos nos tecidos periodontais por apresentar uma parte ativa milimétrica. Esses instrumentos são bastante utilizados para o mapeamento periodontal inicial. Qual é o nome da sonda ilustrada, utilizada para mensurar a bolsa periodontal?

- (A) Sonda OMS.
- (B) Sonda Williams.
- (C) Sonda North Carolina.
- (D) Sonda Nabers.

QUESTÃO 48

Considere a seguinte descrição microscópica: "Os cortes microscópicos revelam mucosa gengival apresentando epitélio juncional hiperplásico. Subjacente, no tecido conjuntivo nota-se exsudato inflamatório e presença de neutrófilos, macrófagos e alguns linfócitos. Não há sinais de reabsorção óssea". De acordo com Niklaus P. Lang & Jan Lindhe (2015), essa descrição microscópica representa qual fase da etiopatogênese da doença periodontal?

- (A) Inicial.
- (B) Precoce.
- (C) Estabelecida.
- (D) Avançada.

QUESTÃO 49

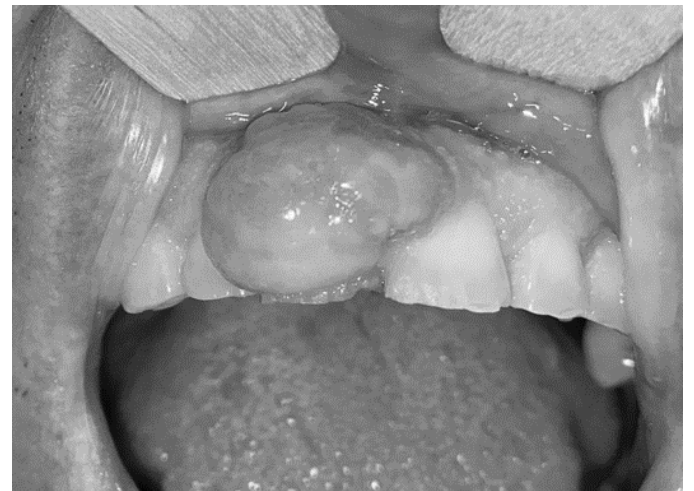
A ergonomia tem como propósito reduzir o estresse cognitivo e físico durante o atendimento odontológico. Para realizar o procedimento de raspagem e alisamento radicular das faces vestibular, mesiovestibular e distovestibular dos dentes 16 e 17, a posição ergonômica da cabeça do paciente, do operador, da mão oposta à que está segurando a cureta e o tipo de visão utilizada devem ser, respectivamente:

- (A) para o lado do cirurgião-dentista; posição de 9 horas; no arco dentário inferior; indireta.
- (B) para o lado do cirurgião-dentista; posição de 8 horas; dedo indicador e médio afastando a bochecha; indireta.
- (C) para o lado oposto ao cirurgião-dentista; posição de 8 horas; no arco dentário inferior; direta.
- (D) para o lado oposto ao cirurgião-dentista; posição de 9 horas; dedo indicador e médio afastando a bochecha; direta.

QUESTÃO 50

Leia o caso a seguir.

Paciente do sexo masculino, 58 anos, apresenta lesão com tempo de evolução de 10 meses, de consistência fibrosa e superfície com áreas eritematosas. Durante a investigação intrabucal, foi observada relação entre a lesão e a presença cálculo dentário e bolsa periodontal na face mesial do dente 11.



Quais hipóteses clínicas de diagnóstico devem ser consideradas para essa lesão?

- (A) Lesão central de células gigantes; hiperplasia fibrosa inflamatória; fibroma ossificante central; hiperplasia gengival.
- (B) Hiperplasia gengival; ameloblastoma periférico; fibroma ossificante periférico; granuloma piogênico.
- (C) Granuloma piogênico; hiperplasia fibrosa inflamatória; fibroma ossificante periférico; lesão periférica de células gigantes.
- (D) Fibroma ossificante central; lesão central de células gigantes; hiperplasia gengival; ameloblastoma periférico.

QUESTÃO 51

Leia o caso a seguir.

Paciente do sexo feminino, 50 anos, normocorada, nega doenças crônicas, apresenta lesão sintomática com tempo de evolução de 3 meses, localizada em toda extensão gengival superior e inferior, de coloração eritematosa e aspecto descamativo. Durante o exame intrabucal, não foram evidenciados cálculo dentário, placa dentária ou bolsa periodontal.

Qual conduta e hipótese clínica, respectivamente, devem ser consideradas para esse caso clínico?

- (A) Biópsia incisional; penfigoide de membranas mucosas.
- (B) Raspagem e alisamento radicular; penfigoide de membranas mucosas.
- (C) Raspagem e alisamento radicular; manifestação gengival da leucemia.
- (D) Biópsia incisional; manifestação gengival da leucemia.

QUESTÃO 52

Leia o caso a seguir.

Durante o atendimento odontológico, o periodontista recebe uma paciente do sexo feminino, 14 anos de idade, apresentando hiperqueratose da palma das mãos, perda espontânea de múltiplos dentes e áreas de retração gengival. Foi solicitada uma radiografia panorâmica, evidenciada a seguir.



LETTIERI, *et al.* Oral Phenotype and Salivary Microbiome of Individuals With Papillon-Lefèvre Syndrome. *Front. Cell. Infect. Microbiol.*, 26 August 2021, *Sec. Microbiome in Health and Disease*

Qual hipótese clínica de diagnóstico sistêmico deve ser considerada para essa paciente?

- (A) Síndrome de Cohen.
- (B) Síndrome de Chediak-Higashi.
- (C) Síndrome de Papillon-Lefèvre.
- (D) Síndrome de Ehlers-Danlos.

QUESTÃO 53

Leia o caso a seguir.

Paciente do sexo masculino, 22 anos, procurou o periodontista apresentando o dente 38 parcialmente irrompido e associado a um capuz coronário inflamado e sintomático, cobrindo toda a superfície disto-oclusal. Mediante a palpação local, foi evidenciado que o capuz apresentava edema e discreta supuração. Não há evidências de quadro de trismo, perda óssea periodontal ou linfonodomegalias associados.

Qual é o diagnóstico e a conduta clínica inicial para esse paciente, respectivamente?

- (A) Pericoronarite; higienizar a região para remoção de resíduos e aplicar antisséptico local.
- (B) Abscesso periodontal; drenagem intrabucal e exodontia do dente 38.
- (C) Pericoronarite; drenagem intrabucal e exodontia do dente 38.
- (D) Abscesso periodontal; higienizar a região para remoção de resíduos e aplicar antisséptico local.

QUESTÃO 54

Leia, a seguir, as informações clínicas coletadas por um especialista em Periodontia durante o atendimento odontológico.

- Paciente do sexo masculino, 34 anos de idade;
- Nega tabagismo;
- Inflamação e sangramento gengival;
- Apresenta bolsa periodontal de 4 mm na face disto vestibular do dente 36;
- Perda óssea radiográfica horizontal até o terço coronário da raiz;
- Não há histórico de dentes perdidos;
- Não há evidências de perda óssea em exame radiográfico realizado há 5 anos.

Qual é o diagnóstico da condição periodontal desse paciente?

- (A) Periodontite severa, estágio III, localizada, progressão lenta.
- (B) Periodontite moderada, estágio III, localizada, progressão moderada.
- (C) Periodontite moderada, estágio II, localizada, progressão lenta.
- (D) Periodontite severa, estágio II, localizada, progressão moderada.

QUESTÃO 55

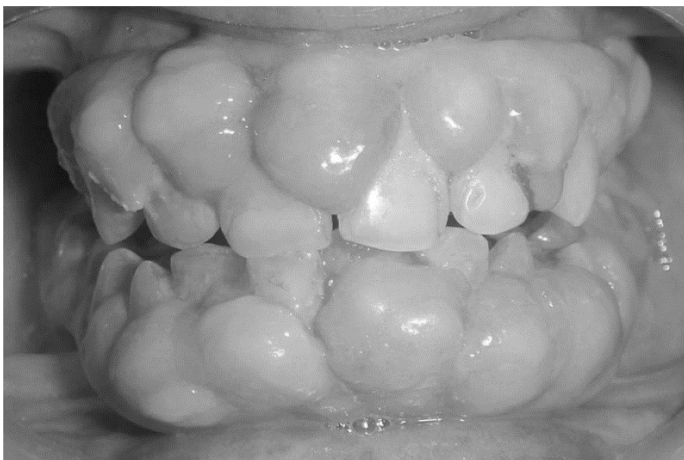
O eritema linear gengival é uma manifestação de gengivite eritematosa, persistente e que sangra facilmente em pacientes infectados pelo HIV. A intensidade do eritema não é proporcional à quantidade de placa presente. Não há ulceração, bolsa ou perda de inserção, e esta condição não responde ao tratamento periodontal convencional. Considere que o especialista em periodontia diagnosticou uma alteração do tipo eritema linear gengival em um paciente HIV+ e suspeitou que ele esteja na fase de AIDS. Quais parâmetros laboratoriais apresentados por esse paciente poderiam fortalecer a suspeita do profissional?

- (A) > 200 células CD4+/mm³ e < 1.000 cópias de HIV/ml.
- (B) < 200 células CD44+/mm³ e < 1.000 cópias de HIV/ml.
- (C) > 200 células CD44+/mm³ e > 100.000 cópias de HIV/ml.
- (D) < 200 células CD4+/mm³ e > 100.000 cópias de HIV/ml.

QUESTÃO 56

Leia o caso a seguir.

Considere a imagem clínica de um paciente de 21 anos de idade, atendido por um especialista em periodontia. Não há sinais de perda óssea.



MOHAN, *et al.* Phenytoin-induced gingival enlargement: a dental awakening for patients with epilepsy. *BMJ Case Reports*, 2013

De acordo com a condição periodontal apresentada, o profissional poderia suspeitar que este paciente utiliza qual medicamento de forma crônica?

- (A) Sinvastatina.
- (B) Metmorfina.
- (C) Varfarina.
- (D) Ciclosporina.

QUESTÃO 57

Os antibióticos sistêmicos podem entrar nos tecidos periodontais e bolsa periodontal via soro e afetarem microrganismos que estejam fora do alcance dos instrumentos de limpeza. Esses medicamentos são indicados em pacientes com doença periodontal para tratamento de

- (A) gengivite associada à manifestação de doenças autoimunes.
- (B) periodontite com profundidade de sondagem ≤ 5 mm e sem sangramento.
- (C) gengivite induzida por placa e exacerbada pela puberdade.
- (D) periodontite avançada de progressão rápida induzida por placa.

QUESTÃO 58

Qual achado clínico pode indicar a necessidade de uma fase cirúrgica da terapia periodontal para redução de bolsa?

- (A) Bolsa periodontal ao redor dos dentes em que o acesso à superfície radicular para remoção completa dos irritantes é clinicamente visível.
- (B) Lesão periodontal em dente unirradicular com mobilidade grau I e perda óssea horizontal, para a remoção de irritantes ao redor da raiz.
- (C) Bolsas de profundidade rasa ou moderada em casos de periodontite leve ou incipiente com pouca perda óssea e de inserção.
- (D) Bolsas intraósseas nas áreas distais dos últimos molares, frequentemente complicadas por problemas mucogengivais.

QUESTÃO 59

A influência do diabetes mellitus na doença periodontal pode ser caracterizada quando

- (A) o nível de glicose no fluido gengival torna-se superior em pacientes com a doença do que naqueles saudáveis, mesmo com índices de placa semelhantes.
- (B) o comprometimento das funções dos plasmócitos em pacientes com a doença aumentam a gravidade da periodontite.
- (C) a hiperglicemia crônica aumenta a síntese de colágeno, tornando o ligamento periodontal mais resistente e fibroso e dificultando a resposta inflamatória periodontal.
- (D) o aumento da glicose no fluido gengival em pacientes com a doença altera a microbiota fúngica e viral periodontopatogênicas da cavidade bucal.

QUESTÃO 60

Durante a avaliação clínica das lesões endo-periodontais, deve-se considerar que

- (A) o componente endodôntico é sempre o fator primário e, neste caso, o tratamento deve ser iniciado pela necropulpectomia.
- (B) o envolvimento periodontal em decorrência da lesão endodôntica é mais comum do que a ocorrência de infecção pulpar retrógrada em função da doença periodontal.
- (C) a condição periodontal não exerce influência no prognóstico das lesões endo-periodontais, já que a recuperação dos tecidos perdidos independe da gravidade da lesão.
- (D) a maior parte dos casos de lesão endo-periodontal apresenta natureza aguda, progressão rápida e sintomatologia intensa.

RASCUNHO**RASCUNHO**